

제 4 교시

직업탐구 영역(성공적인 직업생활)

성명

수험 번호

제 [    ] 선택

1. 다음 A 씨의 사례와 [직업 가치 우선순위 조사 결과]를 분석한 내용으로 적절한 것만을 <보기>에서 있는 대로 고른 것은?

대기업 근무 당시 A 씨는 고액 연봉을 받아 남들의 부러움을 샀으나, 고정된 반복 업무가 싫어 퇴사하고 사회에 도움이 될 수 있는 사회 복지 사업을 시작하였다. 그는 현재 정형화 되지 않은 다양한 복지 업무를 수행하며 사회에 기여할 수 있어 직업 생활에 보람을 느끼고 있다.

**[직업 가치 우선순위 조사 결과]**

구분	20대	40대
1순위	경제적 보상	사회적 공헌
2순위	일과 삶의 균형	성취
3순위	직업 안정	자기 개발

※ 고용24 직업 가치관 검사를 활용한 조사 결과임.

- <보 기>
- ㄱ. A 씨는 직업 가치 중 ‘변화 지향’을 중요시하여 직업을 변경하였다.
  - ㄴ. 대기업 근무 당시 A 씨가 받은 고액 연봉은 20대 응답자 집단이 가장 중요시하는 직업 가치에 부합한다.
  - ㄷ. 40대 응답자 집단이 가장 중요시하는 직업의 가치는 A 씨가 현재의 직업으로 변경한 후 중요시하는 직업 가치이다.

- ① ㄱ      ② ㄴ      ③ ㄱ, ㄷ      ④ ㄴ, ㄷ      ⑤ ㄱ, ㄴ, ㄷ


2. 다음은 A, B 씨의 근무 방식에 대한 사례이다. 이를 분석한 내용으로 옳은 것은? (단, A, B 씨의 근로계약상 소정근로시간은 주 40시간, 1개월은 4주로 가정하며, 연장근로는 고려하지 않는다.) [3점]

○○기업(상시 근로자 30명)에 전화 상담원으로 근무하는 A 씨(여)는 1개월 후 둘째 출산을 앞두고 있다. A 씨는 출산 준비를 위해 이번 주부터 ‘1개월의 정산 기간을 평균하여 1주간의 근로 시간이 40시간을 초과하지 않는 범위에서 업무의 시작 및 종료 시각을 근로자가 자율적으로 결정하는 제도’를 활용하여 근무하고 있다.

△△기업(상시 근로자 90명)에 근무하는 B 씨(남)는 재무제표 작성 업무로 한창 바쁜 시기를 보내고 있다. 회사 업무 일정 상 사용자와 근로자대표의 서면 합의에 따라 1개월의 단위기간 중 첫 번째 주부터 세 번째 주까지는 주 48시간을 근무해야 하며, 이번 주가 바로 주 48시간을 근무해야 하는 세 번째 주이다.


- ① A 씨는 현재 출산전후휴가를 신청하여 사용할 수 없다.
- ② B 씨는 다음 주에 의무적으로 주 40시간을 근무해야 한다.
- ③ A 씨와 B 씨는 이번 주에 선택적 근로시간제에 따라 근무하고 있다.
- ④ A 씨와 B 씨는 한국표준직업분류 대분류 상 ‘전문가 및 관련 종사자’에 해당한다.
- ⑤ ○○기업과 △△기업은 유연근로시간제를 도입·운영하고 있다.

[3~4] 다음은 드라마의 시놉시스이다. 물음에 답하시오.



A 씨(29세)

A 씨는 디자인 스쿨 유학 후 실력을 인정받아 신생 기업인 (주)○○의류의 디자인 부문 부사장으로 채용되었다. 최근 (주)○○의류의 해외 진출 계획에 따라 A 씨는 소속 디자이너들의 해외 연수를 추진하며, 바쁜 일상을 보내고 있다.



B 씨(66세)

A 씨의 아버지인 B 씨는 표준화된 서비스를 제공하는 패스트푸드 가맹점을 운영하고 있다. 불친절한 직원들에게 가맹 본부에서 주최하는 교육 훈련 참여를 독려하고 있다. 최근 경영난에 빠졌으나, 도와주지 않는 아들을 바라보며 자주 눈물을 흘리는 모습이 목격된다.

3. 위 시놉시스를 통해 알 수 있는 기업과 경영 활동에 관한 설명으로 가장 적절한 것은? [3점]

- ① A 씨를 채용한 기업은 ‘물적 회사’에 해당한다.
- ② A 씨는 기업의 소유 여부에 따라 분류하면 ‘소유 경영자’에 해당한다.
- ③ B 씨는 상표의 사용권을 제공하는 대가로 가맹비를 받고 있다.
- ④ B 씨가 운영하는 가맹점은 개별 생산 방식으로 서비스를 제공하고 있다.
- ⑤ A 씨의 해외 연수 추진과 B 씨의 교육 훈련 참여 독려는 기업의 경영 활동 중 ‘생산 관리’에 해당한다.


4. 위 A, B 씨의 생애 발달 단계에 대한 설명으로 적절한 것만을 <보기>에서 고른 것은? (단, 생애 발달 단계별 발달 과업은 해비거스트(Havighurst, R. J.) 이론에 근거한다.)

- <보 기>
- ㄱ. A 씨가 속한 시기의 특징에는 ‘인지적 성장과 주변 환경 탐색’이 있다.
  - ㄴ. A 씨가 속한 시기의 발달 과업에는 ‘성인 관점에서 사회적 가치 수용하기’가 있다.
  - ㄷ. B 씨가 속한 시기의 특징에는 ‘책임 있는 사회 구성원으로서의 역할 시작’이 있다.
  - ㄹ. B 씨가 속한 시기의 발달 과업에는 ‘역할 변화에 융통성 있게 대처하기’가 있다.

- ① ㄱ, ㄴ      ② ㄱ, ㄷ      ③ ㄴ, ㄷ      ④ ㄴ, ㄹ      ⑤ ㄷ, ㄹ

5. 다음 뉴스에 나타난 직업 생활과 관련된 윤리로 가장 적절한 것은?

개인 정보 유출 사고 10건 중 3건은 ‘업무 과실’ 때문인 것으로 나타났습니다. 주로 누리집 게시판에 개인 정보가 포함된 파일을 게시하거나, 이메일 등에 개인 정보를 포함해 발송한 경우였습니다. 한국인터넷진흥원은 ‘개인 정보 유출 사고를 예방하기 위하여 공공 기관과 기업의 정보 보호 체계 개선을 지원해 나갈 계획’이라고 발표했습니다.



- ① 성 윤리      ② 생명 윤리      ③ 정보 윤리
- ④ 환경 윤리      ⑤ 장애인 윤리

## 2 (성공적인 직업생활)

## 직업탐구 영역

6. 다음은 [○○자동차 경영 활동 보고서]의 일부이다. 이에 대한 설명으로 적절한 것만을 <보기>에서 고른 것은? (단, A, B, C는 경영 관리 순환 과정의 조직, 지휘, 통제 중 각각 하나에 해당한다.)

[○○자동차 경영 활동 보고서]	
경영 관리 순환 과정	업무 내용
계획	(가)
A	전기차 부문 전담팀 구성 및 인력 배치
B	임직원 동기 유발을 위한 성과급 제도 도입
C	(나)

<보 기>

- ㄱ. A는 ‘통제’에 해당한다.  
ㄴ. B에서 수행된 업무는 기업 경영 활동 중 ‘재무 관리’에 해당한다.  
ㄷ. (가)에는 ‘전기차 시장 점유율 확대를 위한 목표 및 전략 수립’이 들어갈 수 있다.  
ㄹ. (나)에는 ‘분기별로 계획 대비 실적을 분석하여 피드백 제공’이 들어갈 수 있다.

① ㄱ, ㄴ    ② ㄱ, ㄷ    ③ ㄴ, ㄷ    ④ ㄴ, ㄹ    ⑤ ㄷ, ㄹ

7. 다음은 근로관계법에 관한 학습 활동이다. 이를 분석한 내용으로 가장 적절한 것은? [3점]






[게임을 통한 근로관계법 이해하기]

(1) 단시간근로자 A~D 씨의 고용 상황

단시간근로자	A 씨	B 씨	C 씨	D 씨
1주 동안의 소정근로시간	10시간	30시간	11시간	35시간
근무하는 사업장의 상시 근로자 수	2명	3명	5명	6명

※ A~D씨는 1년 이상 결근 없이 계속근로하고 있으며, 초과근로 시간은 매주 2시간 이내라고 가정한다.

(2) 게임 방법

기발  시작점     → (가) → (나) → (다)

- (1)을 고려하여, 단시간근로자 A~D 씨 각각에 대하여 아래 제시된 ㉠~㉣이 옳은지 모두 판단한다.
- 각 근로자를 나타내는 기발은 시작점에서 출발하며, 근로자별로 ㉠~㉣ 각각에 대하여 옳으면 화살표 방향으로 한 칸씩 이동하고, 옳지 않으면 이동하지 않는다.

㉠: 사용자는 해당 근로자의 퇴직에 대하여 퇴직급여를 지급하여야 한다.

㉡: 사용자의 귀책사유로 휴업하는 경우에 사용자는 해당 근로자에게 휴업수당을 지급하여야 한다.

㉢: 사용자는 해당 근로자에게 연차 유급휴가를 주어야 한다.

- ① 게임의 최종 결과, 시작점에 남아 있는 근로자는 없다.  
② 최종 도착지가 (가)인 근로자는 B씨와 C씨이다.  
③ 최종 도착지가 (나)인 근로자가 근무하는 사업장의 상시 근로자 수를 모두 합하면 8명이다.  
④ A 씨와 C 씨의 사용자는 각각 A 씨와 C 씨의 초과근로에 대해 가산임금을 지급하여야 한다.  
⑤ C 씨와 D 씨의 사용자는 각각 C 씨와 D 씨에게 1주에 평균 1회 이상의 유급휴일을 보장하여야 한다.

8. 다음 [제품 생산 방식에 관한 수행 평가]의 (가)~(다)를 분석한 내용으로 적절한 것만을 <보기>에서 있는 대로 고른 것은?

[제품 생산 방식에 관한 수행 평가]		
작성자: 학생 A		
문제	답안지	채점 결과
(1) (가)에 따라 생산되는 제품 2가지를 쓰시오.	자동차, 시멘트	○
(2) 로트 생산 방식의 특성을 쓰시오.	(나)	○
(3) 계획 생산 방식의 문제점을 쓰시오.	(다)	○

※ 정답이면 ○, 오답이면 ✕

<보 기>

- ㄱ. (가)에는 ‘연속 생산 방식’이 들어갈 수 있다.  
ㄴ. (나)에는 ‘소비자의 요구에 따라 각 제품을 개별적으로 생산하는 방식’이 들어갈 수 있다.  
ㄷ. (다)에는 ‘수요 예측 실패 시 제품 재고가 발생할 우려가 있음.’이 들어갈 수 있다.

① ㄱ    ② ㄴ    ③ ㄱ, ㄷ    ④ ㄴ, ㄷ    ⑤ ㄱ, ㄴ, ㄷ

9. 다음 사례에 나타난 직업 사회의 변화와 미래 사회의 특징으로 가장 적절한 것은?

농촌 지역의 고령화에 따라 일손 부족이 심화되어 농업 산업의 기반이 위협받고 있다. 이에 따라 농기계 무인·자율화 이슈가 부상하고 있다. 통신망의 확장과 통신 기기의 보급 확대로 농가에서는 위치 인식, 작업 경로 생성 등 자율 주행 및 작업이 가능한 트랙터가 운영되고 있다.

직업 사회의 변화	미래 사회의 특징
① 과학 기술의 변화	경제 블록화
② 무역 환경의 변화	세계화의 가속화
③ 무역 환경의 변화	다원주의의 심화
④ 인구 구조의 변화	경제 블록화
⑤ 인구 구조의 변화	정보화의 가속화

10. 다음 기사에 나타난 지원 대상 업종에 대한 설명으로 가장 적절한 것은? [3점]

(주)△△는 소상공인이 운영하는 400여 개 숙박 업체를 집중 지원한다. 구체적으로 기초 컨설팅부터 판매 촉진, 판로 확산까지 단계별 프로그램을 진행할 예정이다.

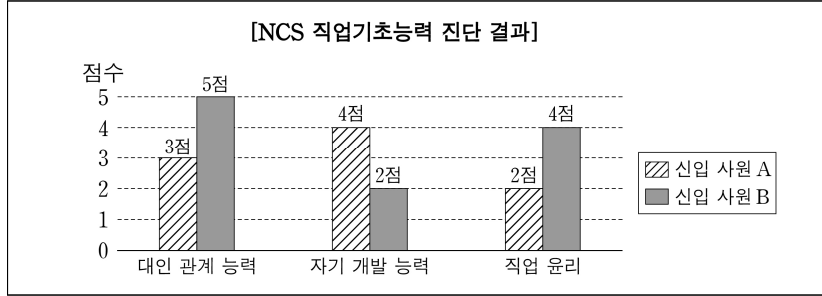
(주)△△의 제휴 마케팅 팀장은 “숙박업을 영위하는 소상공인에 대한 육성 지원을 통해 국내 여행 업계가 더 활성화될 수 있도록 노력하겠다.”라고 말했다.

- ○○신문, 2025년 3월 19일 자 -

- ① 재화의 이동을 도와주는 서비스업에 해당한다.  
② 생산 활동의 결과물을 수요자가 재판매할 수 있다.  
③ 공급 주체에 따른 분류상 민간 서비스업에 해당한다.  
④ 수요 주체에 따른 분류상 생산자 서비스업에 해당한다.  
⑤ 클라크(Clark, C. G.)의 산업 분류상 2차 산업에 해당한다.



11. 다음 신입 사원 A, B의 [NCS 직업기초능력 진단 결과]를 분석한 내용으로 적절한 것만을 <보기>에서 있는 대로 고른 것은? [3점]



<보 기>

- ㄱ. A는 고객 서비스 능력을 하위 영역으로 포함하는 능력에서 3점을 받았다.  
 ㄴ. A가 최하점을 받은 능력의 하위 영역에는 자기 관리 능력이 있다.  
 ㄷ. B가 최하점을 받은 능력의 하위 영역에는 자아 인식 능력이 있다.  
 ㄹ. A와 B의 직장 적응 능력군에 대한 직업기초능력을 비교할 수 있다.

- ① ㄱ, ㄴ                      ② ㄱ, ㄹ                      ③ ㄴ, ㄷ  
 ④ ㄱ, ㄷ, ㄹ                ⑤ ㄴ, ㄷ, ㄹ

12. 다음 재해 사례를 통해 알 수 있는 내용으로 옳은 것은? (단, 재요양과 장애등급의 변경은 고려하지 않는다.) [3점]

2024년 4월 1일 ○○기업에 근무하는 A 씨(42세)와 B 씨(52세)는 △△아파트 엘리베이터 내 LED전등 교체 작업 중 이동 사다리에서 함께 떨어지는 사고로 산재보험 의료기관으로 이송되었다. 진단 결과 A 씨는 다리 골절로 4주 입원 치료 후 완치되었다. B 씨는 손가락 골절로 수술 후 3개월간 간병과 치료를 받고 치유되었으나 장애 14급 판정을 받았다. A, B 씨 모두 업무상 재해로 인정받았고 치료 기간 동안 취업하지 못하여 임금을 받지 못했다. 그들은 퇴원 후 현재 직장으로 복귀해 정상 근무하고 있다.

- ① 사고의 형태는 ‘무너짐’이다.  
 ② A 씨는 취업하지 못한 기간 동안 통상임금의 60%를 받을 수 있다.  
 ③ B 씨는 간병급여를 받을 수 있다.  
 ④ B 씨는 장애특별급여를 받을 수 없다.  
 ⑤ A 씨와 B 씨는 직업재활급여를 받을 수 있다.

13. 다음 창업 사례를 통해 알 수 있는 내용으로 적절한 것만을 <보기>에서 있는 대로 고른 것은?

A 씨는 케이크를 공장에서 대량 제조하여 소매점에 납품하는 베이커리 기업을 창업하였다. 창업 초기 정부 지원 제도를 통해 생산 설비 취득 자금을 보조받아 재정적 안정을 도모했다.

커피 프랜차이즈 기업을 창업한 B 씨는 생태계 보호를 위한 친환경 원두 구매 정책으로 기업의 이해관계자에게 긍정적 이미지를 구축하고 있다.

<보 기>

- ㄱ. A 씨가 창업한 기업은 창업 자본 중 ‘운전 자금’을 지원받았다.  
 ㄴ. B 씨는 기업이 정신 중 ‘사회적 책임성’을 지니고 있다.  
 ㄷ. A 씨와 B 씨가 창업한 기업은 한국표준산업분류 대분류 상 ‘숙박 및 음식점업’에 속한다.

- ① ㄱ                      ② ㄴ                      ③ ㄱ, ㄷ                      ④ ㄴ, ㄷ                      ⑤ ㄱ, ㄴ, ㄷ

14. 다음은 평생 학습 제도에 대한 모듈별 발표 내용이다. 이에 대한 설명으로 옳은 것은? [3점]

모듈	발표 내용
[1모듈]	「산업현장 일학습병행 지원에 관한 법률」에 따라 근로자를 고용하여 담당 직무를 수행하도록 하면서, 도제식 현장 교육 훈련(OJT)과 사업장 외 교육 훈련(Off-JT)을 모두 제공하는 제도
[2모듈]	「산업교육진흥 및 산학협력촉진에 관한 법률」 제8조에 따라 대학이 국가·지방 자치 단체 또는 산업체 등과 직무 교육 관련 협약을 맺고, 학과 등을 설치·운영하는 제도
[3모듈]	「학점인정 등에 관한 법률」에 의거하여 학교에서만 아니라 학교 밖에서 이루어지는 다양한 형태의 학습과 자격을 학점으로 인정하는 제도

- ① [1모듈]이 발표한 제도에 참여하는 근로자는 교육 훈련의 평가 결과에 따라 자격을 인정받을 수 있다.  
 ② [2모듈]이 발표한 제도에서 국가·지방자치단체 또는 산업체 등은 교육에 필요한 경비를 부담하지 않는다.  
 ③ [3모듈]이 발표한 제도에서는 국가평생교육진흥원이 주관하는 1~4과정까지 총 4년의 시험을 통과하여야 학사 학위 취득이 가능하다.  
 ④ [2모듈]이 발표한 제도에는 ‘자격 연계형’이 있으며, [3모듈]이 발표한 제도에는 ‘재직자 단계’가 있다.  
 ⑤ [2모듈]과 [3모듈]이 발표한 제도의 대상자는 재직자로 제한된다.

15. 다음 [진로 상담 사례]에 나타난 A, B 씨의 의사 결정 유형에 대한 설명으로 가장 적절한 것은? (단, 의사 결정 유형은 하렌(Harren, V. A.)의 진로 의사 결정 유형 이론에 근거한 합리적, 직관적, 의존적 유형으로만 구분한다.)

[진로 상담 사례]	
A 씨	B 씨
우연히 ‘K-팝 성공 신화’의 숨은 주인공’이라는 영상물을 시청하였습니다. 한순간에 새로운 이미지를 만들어내는 환상적인 메이크업 아티스트를 보고 불현 듯이 그 직업에 도전하겠다는 마음을 먹었습니다.	고등학교 졸업 후 제 의지와 달리 아버지의 강력한 권유로 기업인 양조장에서 일하고 있습니다. 최근 K-푸드에 대한 해외 수요가 늘어난다는 뉴스를 듣고 막걸리를 손쉽게 만들 수 있는 키트 제작에 도전하였으나 역부족이었습니다.

- ① A 씨의 의사 결정 유형은 타인의 기대와 요구에 많은 영향을 받는 유형이다.  
 ② B 씨의 의사 결정에는 환경적 요인이 영향을 미치지 않았다.  
 ③ B 씨의 의사 결정 유형은 상상과 정서적 자각에 기초하여 결정하는 유형이다.  
 ④ A 씨에 비해 B 씨의 의사 결정 유형은 실패 시 타인을 탓하기 쉬운 유형이다.  
 ⑤ A 씨와 B 씨의 의사 결정 유형은 충분한 정보를 수집, 분석하여 미래 상황까지 예측하는 유형이다.

## 4 (성공적인 직업생활)

## 직업탐구 영역

16. 다음은 학생 A, B가 지원한 기업과 면접 전형에 관한 대화이다. 이를 분석한 내용으로 가장 적절한 것은?

교 사 : 필기 전형에 합격했다는 소식을 들었어요. 지원 회사와 남은 전형 일정에 대해 소개해 줄 수 있나요?  
 학생 A : 저는 가전제품을 생산하는 ○○기업에 지원했습니다. 다수 지원자가 특정 주제를 놓고 토론하는 1차 면접과 단독으로 입실하여 여러 명의 면접관을 대면하는 2차 면접이 남아 있습니다.  
 학생 B : 제가 지원한 (주)△△기업은 「독점규제 및 공정거래에 관한 법률」에 따른 대규모회사 또는 기업집단에 속한 기업은 아니지만, 지난 10년간 자산 총액 5,000억 원, 매출액 2,000억 원 이상을 유지해 온 유망한 반도체 생산 기업입니다. 직무 경험과 직무 수행 능력을 평가하기 위해 사전에 제시된 주제를 실무진 앞에서 발표하는 1차 면접과 개인 성향과 조직 적응력을 평가하기 위해 임원과 일대일로 대면하는 2차 면접이 남아 있습니다.

- ① 학생 A가 지원한 기업의 1차 면접은 압박 면접에 해당한다.
- ② 학생 A가 지원한 기업의 1차 면접은 2차 면접에 비해 타인에 대한 배려와 협동심을 다수 지원자들과 동시에 비교·평가하는 데 더 적합하다.
- ③ 학생 B가 지원한 기업의 1차 면접은 인성 면접에 해당한다.
- ④ 학생 B가 지원한 기업은 「중소기업기본법」상 중소기업에 해당한다.
- ⑤ 학생 A와 B가 지원한 기업은 소비재 제조업에 해당한다.

17. 다음 A 씨의 취업 성공 사례 발표를 통해 알 수 있는 내용으로 가장 적절한 것은? [3점]

공무원으로 정년퇴직 후, 평소 관심을 가져왔던 스마트팜을 운영해 보기 위해 경력 개발의 일환으로 농업 법인에 취업하여 체계적인 경험을 쌓고자 했습니다. 다음은 블라인드 채용 방식을 통해 ○○농업 법인에 재취업한 과정입니다.

대분류	중분류	소분류	세분류
24. 농림어업	01. 농업	01. 작물재배	08. 시설원예

분류 번호	(가)	수준
2401010810_23v2	10. 시설원예 스마트팜운영	(나)

• 취업 희망 분야 국가직무능력표준(NCS)을 검색한 결과

• 직무 수행 능력 향상을 위해 실행한 방법

- NCS 학습모듈 활용
- 농장에서의 아르바이트

• ○○농업 법인 채용 전형 준비

- 채용 방식: 블라인드 채용임을 확인
- 서류 전형: NCS 기반 자기소개서, 경험 및 경력기술서 작성
- 기타 사항: 모의 면접, 면접 클리닉 참가

A 씨

- ① (가)는 '08. 시설원예'를 구성하는 핵심 하위 능력을 기술한 것이다.
- ② (나)에 들어가는 숫자가 높을수록 낮은 숙련도와 직무 역량이 요구된다.
- ③ A 씨는 ○○농업 법인 취업 시 연령에 따른 우대를 받았다.
- ④ A 씨가 직무 수행 능력 향상을 위해 활용한 교수·학습 자료는 소분류별로 개발되어 있다.
- ⑤ ○○농업 법인은 A 씨의 채용 과정에서 직무 수행에 필요한 역량과 경험을 평가하였다.

[18~19] 다음은 실업급여 수급 및 계산 사례이다. 물음에 답하시오.

[실업급여 수급 사례] (단, A, B 씨는 구직급여 수급자격자이다.)

A 씨 (33세)	- 퇴직 전 근무 기간: 2019. 3.~2023. 6. - (주)○○에서 퇴직 후 직업안정기관의 장이 지시하지 않았으나 「고용보험법」상 피보험자등에게 훈련비를 지원하는 직업능력개발 훈련을 이수한 결과, 구직급여 첫 수령 2개월 후 다른 사업주가 운영하는 기업에 취업하여 1년 이상 근무 중임.
B 씨 (24세)	- 퇴직 전 근무 기간: 2021. 5.~2023. 6. - (주)△△에서 퇴직 후 1개월간 질병으로 취업이 불가능하여 실업의 인정을 받지 못하였으나 이후 직업안정기관의 장이 지시한 직업능력개발 훈련을 받고 있음.

[구직급여일액 계산 사례] (단, 평균임금은 통상임금보다 크다.)

A 씨 구직급여의 산정 기초: 이직 당시 산정된 (가)	108,000원
구직급여일액의 상한액	66,000원
구직급여일액의 하한액(A 씨의 최저구직급여일액)	64,192원
A 씨의 구직급여일액	(나)

18. 위 [실업급여 수급 사례]를 분석한 내용으로 가장 적절한 것은? [3점]

- ① A 씨는 직업능력개발 훈련을 이수할 때 '국민내일배움카드'를 활용할 수 없다.
- ② B 씨는 상병보상연금을 지급받을 수 있다.
- ③ B 씨는 이직일의 다음 날부터 2024년 12월 말까지 소정급여일수를 한도로 구직급여를 받을 수 있다.
- ④ A 씨와 B 씨는 직업능력개발 수당을 지급 받을 수 있다.
- ⑤ A 씨와 B 씨가 지급받을 수 있는 수당은 취업촉진 수당에 해당한다.

19. 위 [구직급여일액 계산 사례]의 (가), (나)에 해당하는 것으로 옳은 것은?

- |                |                |                |                |
|----------------|----------------|----------------|----------------|
| (가)            | (나)            | (가)            | (나)            |
| ① 통상임금 64,192원 | ② 통상임금 64,800원 | ③ 평균임금 64,192원 | ④ 평균임금 64,800원 |
| ⑤ 평균임금 66,000원 |                |                |                |

20. 다음 노사분규 관련 기사 제목을 분석한 내용으로 옳은 것은? (단, A 기업 관계 당사자의 쟁의행위는 모두 적법하게 행해졌다고 가정한다.) [3점]

날짜	기사 제목
2025. 3. 4.	A 기업 ㉠ 노동조합과 ㉡ 사용자, 본격 교섭 시작!
2025. 3. 24.	A 기업 노사 교섭 결렬! 노조 '총파업 돌입' 예고
2025. 4. 2.	A 기업 사용자 금일 노동위원회에 ㉢ 조정 신청
2025. 5. 12.	A 기업 작업 시설 봉쇄. 직장폐쇄 전격 단행!
2025. 5. 30.	파국 막을까.. A 기업 노사, 중재 신청

- ① ㉠이 5월 12일 자 기사 제목의 쟁의행위를 하였다.
- ② ㉠은 노사 공동의 이익을 증진하기 위해 근로자와 사용자가 참여한 단체 또는 연합단체이다.
- ③ ㉡의 쟁의행위는 2025년 3월 24일과 2025년 4월 2일 사이에 행해졌다.
- ④ ㉠의 쟁의행위에 참가한 것을 이유로 ㉡이 해당 근로자를 해고한다면 부당노동행위에 해당한다.
- ⑤ ㉢에서 작성된 조정안이 ㉠과 ㉡에 의해 수락되었다.

\* 확인 사항

- 답안지의 해당란에 필요한 내용을 정확히 기입(표기)했는지 확인하시오.